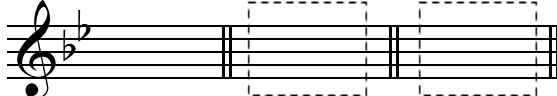


ТАКМИЧЕЊЕ „БИНИЧКИ“ 2022-2023

ТЕОРИЈА МУЗИКЕ IV разред

1. Попунити празна поља (празне линије).

(према задатим предзнацима препознати имена обе паралелне лествице, а према задатом имену једне лествице написати име њене паралеле и њихове предзнаке).



___ - dur ___ - dur G - dur
___ - mol h - mol ___ - mol

2. Заокружити одговор са **Т** (тачно) или **Н** (нетачно).


а) g-mol има две снизилице. Т Н

б) h-mol је паралела G-dura. Т Н

в) У мелодијском d-molu тон си је снижен. Т Н


г) Горњи тетрахорд хармонског h-mola је fis-g-ais-h. Т Н

3. Одредити врсту и величину интервала у задатој мелодији, а затим и име и врсту лествице у којој је мелодија написана.



име и врста лествице у којој је писана мелодија


4. Одредити врсту и облик акорада, а затим нотама написати и његов основни облик.



5 5 5
3 3 3

5. Према задатој функцији, одабрати тоналитет квинтакорда.

(Функције и тоналитете повезати линијама. Један тоналитет може бити повезан са више квинтакорада.)



t S s T D s D

G-dur

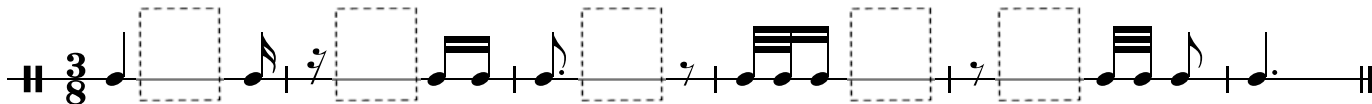
F-dur

g-mol

B-dur

d-mol

6. Допунити записани ритам неким од понуђених ритмичких вредности.



.....

7. Збир више ритмичких вредности с леве стране повезати са одговарајућом нотом с десне стране.



.....