

ТАКМИЧЕЊЕ „БИНИЧКИ“ 2022-2023

ТЕОРИЈА МУЗИКЕ V разред

1. Преписати задату мелодију у бас кључ, у $\frac{4}{2}$.

2. Заокружити врсту такта која одговара написаној мелодији.

3. Изградити задате интервале у правцу стрелице.


4. Написати шифре интервала које образују гласови задате двогласне мелодије.

5. Заокружити тачно написане предзнаке задатих лествица.

6. Дописати тоневи који недостају тако да лествични низ одговара имену и врсти лествице, а затим и доминантни септакорд у том тоналитету.

7. Написани **тетрахорд је...**

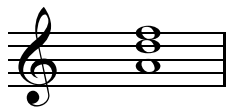
(Заокружити тачан одговор)




- а) фригијски
- б) хармонски
- в) молски

8. Испред нота трозвука **дописати потребне предзнаке** тако да трозвук **одговара датом тоналитету**, а затим и **шифру** тако добијеног **трозвука**.

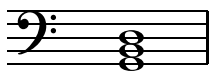
g-mol хармонски



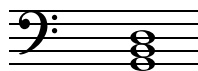
D-dur



fis-mol природни



e-mol мелодијски




9. Написати **основни облик трозвука** и одредити **ком главном ступњу** тог тоналитета **припада**.

(Заокружити слово испред тачног одговора)



- а) тоника f-mola мелодијског
- б) субдоминанта c-mola природог
- в) доминанта B-dura

10. Пажљиво погледати ноте, а онда **заокружити слово испред тачног одговора**.



- а) Тон прве ноте звучи више од тона друге ноте.
- б) Тон прве ноте звучи ниже од тона друге ноте.
- в) Тонове обе ноте су исте висине.