

# ТАКМИЧЕЊЕ „БИНИЧКИ“ 2022-2023


## ТЕОРИЈА МУЗИКЕ VI разред

1. Одредити врсту и величину интервала.



2. Написати квинтакорде на главним ступњевима задате лествице и одредити им врсту.

**fis-mol** мелодијски



3. Изградити задате трозвуке у правцу стрелице, односно према написаном средњем тону акорда.



Д  $\frac{6}{3}$  ↑


М  $\frac{6}{4}$  ↓

ПР  $\frac{6}{4}$  ↑


УМ  $\frac{6}{3}$  ↓

ПР  $\frac{5}{3}$   
(средњи тон)


4. У задатим тонлитетима изградити доминантне четворозвуке.




Д<sub>7</sub>  
E-moldur



Д<sub>2</sub>  
h-mol  
мелодијски




Д<sub>5</sub><sup>6</sup>  
b-mol  
хармонски




Д<sub>3</sub><sup>4</sup>  
g-mol  
мелодијски

5. У правцу стрелице изградити задате лествице.


Des-moldur ↓




fis-mol хармонски ↑




6. Написати задате тетракорде.




горњи тетракорд  
A-moldura



доњи тетракорд  
gis-mola  
природног



фригијски  
тетракорд ↑



лидијски  
тетракорд ↓

